

VERIFICHE FINALI

DI

STORIA

2

CLASSE QUINTA

LE FONTI

Di quali fonti non scritte si servono gli storici per conoscere le civiltà antiche?

.....

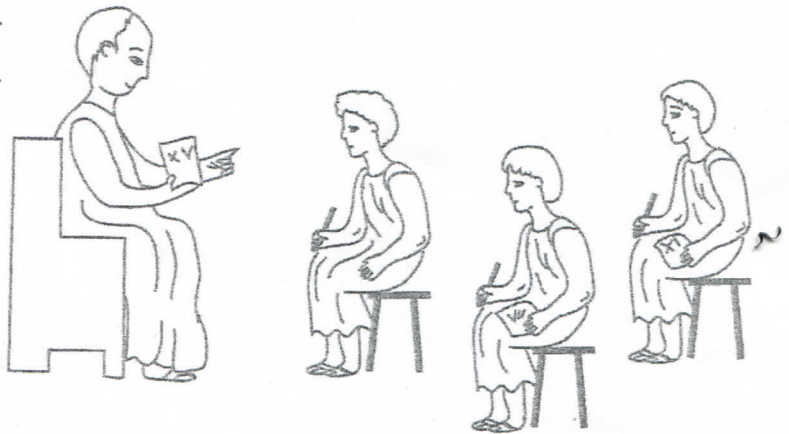
.....

.....

Osserva il disegno: quali informazioni potresti ricavare da questo disegno se tu fossi uno storico e questo fosse un affresco trovato in una casa dell'antica Roma?

.....

.....



Osserva il disegno, quali informazioni potresti ricavare da questo disegno se tu fossi uno storico e questo fosse un affresco trovato in una casa dell'antica Roma?

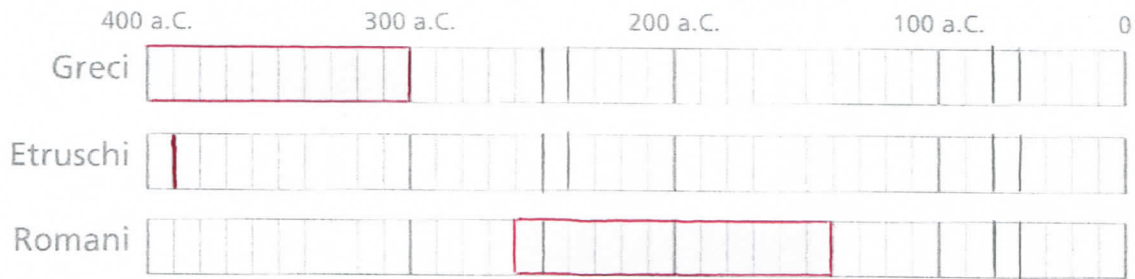
.....

.....



TEMPI E CIVILTÀ

- Osserva le linee del tempo, poi rispondi alle domande.



1. Quale popolo combatté le guerre puniche (264 a.C.-146 a.C.)?
.....
2. Quale popolo iniziò a decadere con la sconfitta di Veio (390 a.C.)?
.....
3. Quale popolo conobbe il suo periodo di massimo splendore tra 800 a.C. e 300 a.C.?
4. Tra quelli elencati sopra, quale avvenimento è più vicino a noi?
.....
Perché?

- Ordina cronologicamente la successione degli eventi legati all'espansione romana:

275 a.C. 282 a.C. 264 a.C. 290 a.C.

- Costruisci una linea del tempo e inserisci le date dell'esercizio precedente.



5

1. Colora in **giallo** l'Etruria.
2. Colora in **verde** chiaro i territori della Magna Grecia.
3. Colora in **azzurro** i territori cartaginesi.
4. Traccia in **rosso** i confini del territorio romano alla fine della Repubblica.

GOVERNI A CONFRONTO

- Osserva lo schema dove sono riportate le forme di governo di alcuni popoli antichi; poi rispondi alle domande.

	Antica Grecia			
	Sparta	Atene		
Governo	Oligarchia	Democrazia	Monarchia	Repubblica

1. Spiega con parole tue cosa significano i seguenti termini.

– Oligarchia:

..... –

Democrazia:

..... –

Monarchia:

..... –

Repubblica:

.....

2. In quale forma di governo il potere era accentrato nelle mani di un'unica persona?

3. In quali forme di potere contribuivano a governare gli anziani (o senatori)?

4. In quale governo erano presenti i rappresentanti della plebe?

.....

5. In quale forma di potere era possibile passare da una classe sociale all'altra, a seconda della ricchezza posseduta?

TRACCE DI CIVILTÀ

- Osserva le immagini e indica nel quadratino se sono riferibili alla civiltà greca (G), etrusca (E) o romana (R).



AFFRESCO




TEMPIO



VASO



STRADA



ACQUEDOTTO



TOMBE

BREVE STORIA DELLA CIVILTÀ DEI ROMANI

• Completa il testo con le parole elencate.

pace – Teodosio – città – sette – agricoltura – italica –
pastorizia – 509 a.C. – Ottaviano – Cartagine – Tevere
– monarchia – d'Occidente – repubblica – puniche –
Mediterraneo – d'Oriente – Augusto – 753 a.C.

*Secondo la tradizione Roma viene fondata nel sui
colli della riva sinistra del fiume, al centro delle vie
commerciali del tempo. A quel tempo i colli del Lazio erano abitati
da popoli che vivevano di e di
..... Roma, con il passare dei secoli si trasformò da villaggio in
una grande*

*Per due secoli Roma fu una, cioè venne gover-
nata da un re. Sempre secondo la tradizione i re di Roma furo-
no I Romani però stanchi della monarchia si
ribellarono all'ultimo re e proclamarono la nel
.....*

*Durante la Repubblica, Roma sottomise a poco a poco tutti i po-
poli della penisola Con le guerre
sconfisse la rivale e conquistò la supremazia sul
mar*

*Dopo la morte di Cesare tutto il potere passò nelle mani di
....., primo imperatore di Roma con il nome di
..... Egli inaugurò un lungo periodo di,
durato circa due secoli.*

*Nel III secolo d.C. l'Impero fu sconvolto da una grave crisi deter-
minata da diversi fattori (invasioni barbariche, aumento dei prezzi,
epidemie).*

*L'imperatore divise l'impero in Impero Romano
d'Occidente e in Impero Romano*

L'Impero Romano cadde nel 476 d.C.

CONOSCERE LA STORIA DI ROMA.

I ROMANI

1) I primi Romani si insediarono sui colli perché

- in pianura c'erano paludi nella pianura non c'era acqua lì c'erano boschi

2) Roma in realtà fu fondata da

- coloni greci Romolo e Remo villaggi latini uniti insieme

3) Scrivi il nome dei sette colli (almeno tre)

4) Secondo la leggenda, Romolo e Remo erano figli di

- Giove Giano Marte Enea Numitore

5) Scrivi il nome dei sette re di Roma (almeno tre)

6) I patrizi

- erano ricchi, mentre i plebei erano poveri
 potevano partecipare alla vita politica, invece i plebei no
 si chiamavano così perché amavano la patria, mentre i plebei volevano fondare un altro stato

7) La clientela era

- il rapporto di protezione/subordinazione fra patrizi e plebei
 l'insieme di coloro che si rifornivano presso un ricco negoziante
 una magistratura

8) I plebei ottennero

- leggi scritte – tribuni della plebe – accesso alle magistrature
 la possibilità di sposarsi con i patrizi – leggi scritte – tribuni della plebe – accesso alle magistrature
 più soldi in cambio dei loro campi e delle loro botteghe e le leggi delle XII Tavole

9) I consoli avevano potere

- legislativo militare

10) Se Roma era in grave pericolo, i consoli potevano essere sostituiti da

- un senatore un dittatore che durava in carica sei mesi un dittatore a vita

11) I pretori avevano il compito di

- amministrare la giustizia fare le leggi occuparsi del culto religioso

12) I questori

- si occupavano di polizia facevano i censimenti gestivano i soldi dello stato

13) Tiberio e Caio Gracco

- erano tribuni della plebe che cercarono di ottenere terre per i più poveri
 erano due consoli che lottarono fra loro per il potere
 lottarono contro Cartagine nelle guerre puniche

14) Metti in ordine cronologico i seguenti eventi storici scegliendo la data giusta fra le seguenti:

753 a.C.	476 d.C.	313 d.C.
----------	----------	----------

NUMERO ORDINE	EVENTO STORICO	DATA
	FINE DELL'IMPERO- DEPOSIZIONE DI ROMOLO AUGUSTOLO	
	EDITTO DI COSTANTINO	
	FONDAZIONE DI ROMA	

VOCABOLARIO ROMANO

15) Scrivi il termine esatto davanti ad ogni definizione: DOMUS – CATACOMBE – INSULA- FORO- PERISTILIO- IMPLUVIO- ANFITEATRO- PATER FAMILIAS-

- _____ : capo famiglia
_____ : casa dei ricchi
_____ : casa della gente comune.
_____ : vasca per la raccolta dell'acqua piovana.
_____ : giardino con colonne.
_____ : parte della città destinata al mercato e alla vita politica.
_____ : edificio in cui si svolgevano i combattimenti fra gladiatori.
_____ : luoghi di sepoltura e di preghiera dei primi cristiani.

16) Scrivi il nome della divinità:

- Re degli dei _____
Regina degli dei _____
Re del mare _____
Dio della guerra _____
Dea della bellezza e dell'amore _____
Divinità che proteggono la casa _____